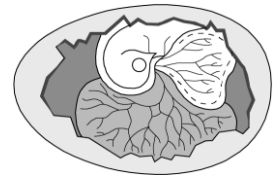
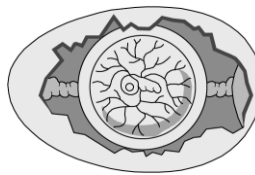
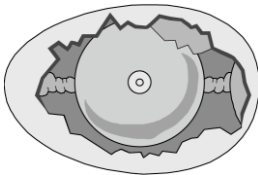



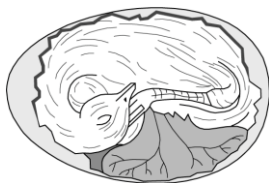
Name: Datum:

1. Lies die Seiten 36 und 37 im Buch.
2. Setze in den Lückentext die fehlenden Begriffe ein: *Eileiter, Keimscheibe, Hagelschnüre, Schalenhäute, hat viele Poren, 24, der Kloake, Adern, das Ei, 14, der Eierschale*

Die verschiedenen Teile des Hühnereis werden auf dem Weg durch den _____ gebildet. Im befruchteten Ei bildet sich eine _____, aus der sich der Hühnerembryo entwickelt. Eiklar, _____ und zwei _____ kommen hinzu. Die Kalkschale _____ Stunden nach der Befruchtung wird das Ei aus _____ herausgesprengt. Zur Entwicklung des Embryos brütet die Glucke _____ aus. Nach drei Tagen erkennt man bereits _____, die den Keim mit Nährstoffen versorgen. Nach _____ Tagen sind Kopf, Schnabel, Augen, Flügel und Federn ausgebildet. Nach 21 Tagen befreit sich das Küken aus _____

3. Trage unter den Abbildungen ein, welche Zeitpunkte in der Eientwicklung dargestellt sind.





ca. 17. Tag

4 . Benenne die in der Abbildung erkennbaren Teile des Hühnerreis.

